

التحكم : 10/....

أحسب ذهنياً ما يلي : (سبعة واحدة)

$5,14 \times 10 = \dots$

$9 \times (10 - 2) = \dots$

$9 \times \dots = 72$

$25 \times 11 = \dots$

$7 \times 12 = \dots$

$(20 - 8) \div 4 = \dots$

$8 \times \dots = 0$

$7,06 \times 10 = \dots$

اصل بخط كل كلمة أو عبارة بمقابلها في اللغة الفرنسية

AL

التحكم : 10/....

• اصل كل عبارة بمقابلها باللغة الفرنسية:

Un quadrilatère

أحسب المساحة

Je calcule l'aire

مبيان دائري

Graphique circulaire

موشور قائم

Pavé droit

مضلع رباعي

التحكم : 8/....

أحسب محيط الأشكال التالية

GM4

• أحسب محيط الأشكال التالية :

قياس المحيط ب cm	طول الضلع ب cm	اسم المضلع ب cm
.....	5	مثلث متساوي الأضلاع
.....	3	مربع

• أحسب محيط الدائرة في كل حالة :

محيط دائرة	طول القطر	الدائرة
.....cm	6 cm	C1
.....cm	4 cm	C2

• أحسب مساحة القرص في كل حالة :

مساحة القرص ب cm	قياس الشعاع ب cm	القرص
.....	4	D1
.....	5	D2

التحكم : 4/....

أحوّل إلى الوحدة المطلوبة

GM5

• أحوّل إلى الوحدة المطلوبة :

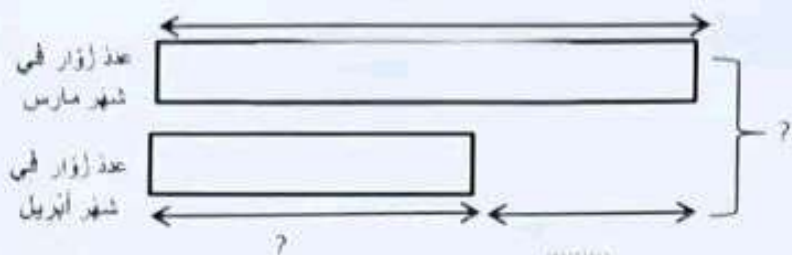
$2 \text{ h } 30 \text{ min} = \dots \text{ min}$

$\frac{1}{2} \text{ min} = \dots \text{ s}$

. أحل المسألة التالية:

يتلغ عدد زوار أحد المتاحف في شهر مارس 845 زائراً، و في شهر أبريل تناقص عدد الزوار ب 83 زائراً،
أحسب عدد زوار المتحف في شهري مارس و أبريل؟

. أتمم نموذج الأشرطة التالي بمعطيات المسألة.



. أحسب عدد زوار المتحف في شهر أبريل؟

. أحسب عدد زوار المتحف في شهري مارس و أبريل؟

الأسئلة التعليلية حول التعلات الأساس

حل المسألة بشكل صحيح = A , لم يحل المسألة بشكل صحيح = C

في ضيعة فلاحية 540 شجرة مؤزعة بالتساوي على 9 صفوف .

كم شجرة في كل صف؟

أنجز العمليتين معا بشكل صحيح = A , لم تنجز العمليتين معا بشكل صحيح = C

$$\begin{array}{r} 644 \\ \hline 7 \end{array}$$

$$\begin{array}{r} 382 \\ \hline 5 \end{array}$$

أضرب المدة الزمنية التي استغرقها كل نشاط :

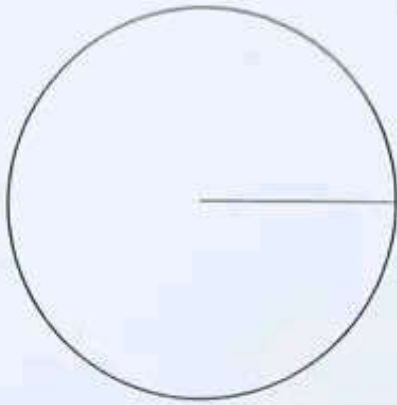
النشاط	وقت البداية	وقت النهاية	المدة الزمنية المستغرقة
الرياضة	8 :00	9 :30
المطعمة	19 :10	20 :00

التحكم :04/...

الاحظ الجدول ، واجيب الاسئلة اسفله

CNT2

• يُمثل الجدول التالي النسب المئوية للهوايات المفضلة لتلاميذ إحدى المؤسسات التعليمية :



النسبة المئوية	الهواية
30%	كرة القدم
25%	الموسيقى
15%	الرسم
20%	السياسة
10%	المنزوح

- أحول مغطيات الجدول إلى مبيان دائري.
- ما الهواية التي يُفضلها $\frac{1}{4}$ تلاميذ المؤسسة؟

.....

• ما نسبة التلاميذ الذين يُفضلون هوايتي الرسم و الموسيقى ؟

.....

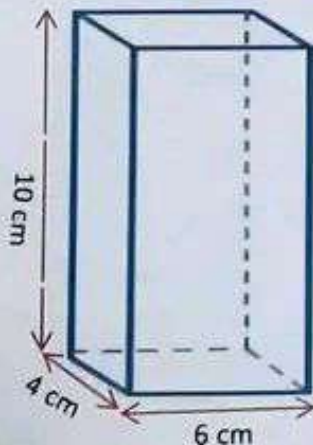
• ما الهوايتان اللتان يُفضلهما نصف تلاميذ المؤسسة؟

.....

التحكم :04/...

النسبة المئوية و السرعة المتوسطة

GMS



.....	اسم المجسم
.....	مساحة القاعدة
.....	المساحة الجانبية
.....	المساحة الكلية