

اقْرَأِ السَّاعَةَ الْعَقَبًا وَوَأَكْتُبِي عِنْدَ الْمُنَاسِبِ



..... :



..... :

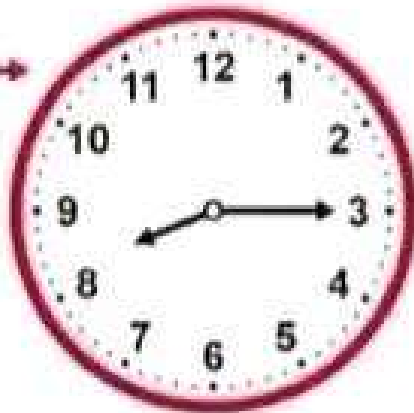
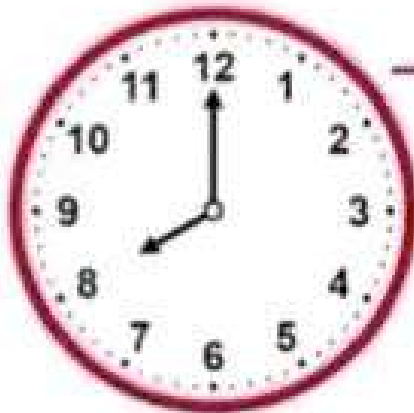


..... :

الابتداء

النهاية

اكتبِ المدة الـ مُستغرَقة بـ
البتدائية ووقتِ النهائي



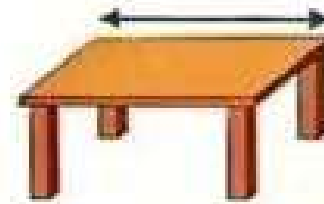


.....

التعريف: 5 / ...

الكفاءة GM6

5

أكتب بكثافة الوحدة المناسبة (m أو cm)



أكتب حسب الوحدة المطلوبة :

التعريف: 6 / ...

الكفاءة GM7

6

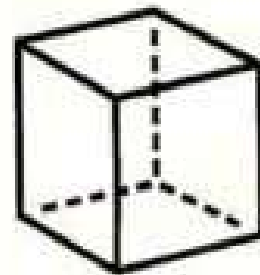
أكتب اسم الجسم وأحسب:

إسم الجسم:

عدد الوجوه:

عدد الرؤوس:

عدد الحواف:



• أَحْسِبِ الْعُدَايَاتِ التَّالِيَةَ :

$$17 \times 10 = \dots$$

$$4 \times 20 = \dots$$

$$69 \times 10 = \dots$$

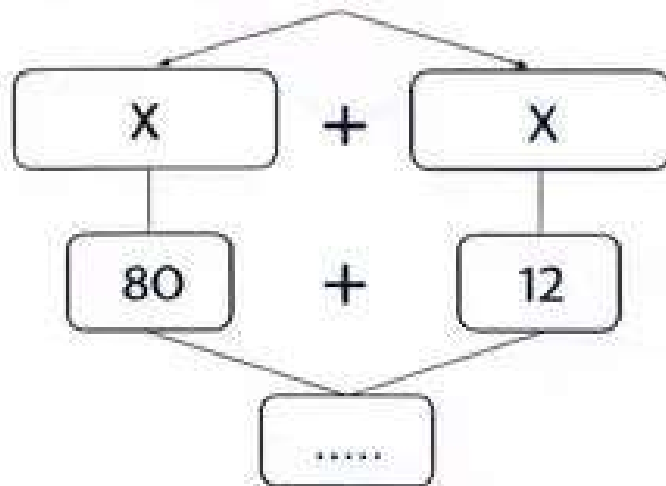
$$69 \times 10 = \dots$$

$$5 \times 30 = \dots$$

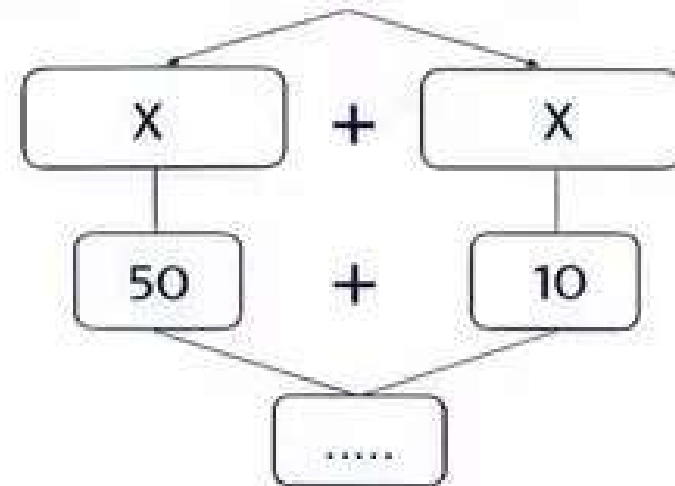
$$5 \times 30 = \dots$$

• فَتَكْكَ الْعَقَايَاتِ التَّالِيَةَ :

$$4 \times 23 = (4 \times 20) + (4 \times 3)$$



$$5 \times 12 = (5 \times 10) + (5 \times 2)$$



• أخلُ المسألة الثانية:

أرادت أمٌ تُوزع 18 كُرَّةً صغيرةً بالتساوي على أطفالها الثلاثة.

ما نصيبُ كلِّ طفلٍ من الكُرَاتِ؟

• أكملْ المتساوية لإحدد عدد الكُرَاتِ التي حصلَ عليها كلُّ طفلٍ:

$$18 = \dots\dots\dots$$

• أكملْ عبارة الحل:

نصيبُ كلِّ طفلٍ هو..... كُرَاتٍ.

18		
?	?	?